







| | | | | |
|------------|---------|----|----|--------|
| Grupa lab. | Tydzień | 1) | 4) | Data: |
| | | 2) | 5) | |
| | | 3) | | |
| | | | | Ocena: |

1. Przebieg w kodzie NRZ dla ciągu bitów 10101010



2. Przebiegi dla różnych kodów dla ciągu bitów **01011001**. Zidentyfikować w przebiegach przesłane bity



3,4. Pomiar składowej stałej w przebiegach kodowych NRZ, RZ, Manchester, AMI, 2B1Q dla różnych sekwencji bitów

| Kod | NRZ | RZ | Manchester | AMI | 2B1Q |
|----------------|-----|----|------------|-----|------|
| a) U_{DC}, V | | | | | |
| b) U_{DC}, V | | | | | |
| c) U_{DC}, V | | | | | |

